

入試 世界の姿①

●時間 15分

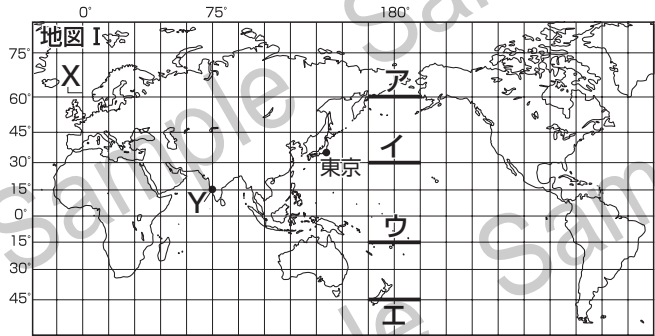
にトライ (緯度・経度中心)

名前 _____ 組 番 _____ / 9問

◆ 地図を見て、次の問いに答えなさい。

(1) 地図Ⅰは緯線と経線が直角に交わった地図です。これを見て、次の問いに答えなさい。

- ① 次の文の **A** にあてはまる数字を書きなさい。また、**B** にあてはまる語句を書きなさい。(熊本改)



地球の表面は陸と海に分かれており、陸の面積は、地表のおよそ **A** 割を占めている。海の大部分は、3つの大洋(海洋)が占めており、最も面積が広い大洋は、**B** である。

- ② 経度の基準となっている、**X**の経線を何といいますか。漢字5字で書きなさい。
 ③ 地図Ⅰ中の**Y**は、インドのある地域を示しています。**Y**の位置の緯度と経度を、次の**ア**~**エ**から1つ選びなさい。(高知)

- ア** 北緯15度、東経75度 **イ** 北緯15度、西経75度
ウ 南緯15度、東経75度 **エ** 南緯15度、西経75度

④ 地図Ⅰ中の東京は、およそ北緯36度、東経140度の位置にあります。東京から見て地球の反対側になる場所の緯度と経度を、次の**ア**~**カ**から1つ選びなさい。(熊本)

- ア** 南緯36度、西経140度 **イ** 南緯36度、東経40度 **ウ** 南緯36度、西経40度
エ 南緯54度、西経140度 **オ** 南緯54度、東経140度 **カ** 南緯54度、西経40度

⑤ 地図Ⅰ中の**—**は、地図上では同じ長さですが、地球上での距離はそれぞれ異なっています。**ア**~**エ**のうち、地球上での距離が最も短いものを1つ選びなさい。(山形)

(2) 地図Ⅱは、東京を中心とした距離と方位が正しい地図です。これを 地図Ⅱ 見て、次の問いに答えなさい。

① 地図Ⅱから読み取れることについて、**a**・**b**の正誤の正しい組み合わせを、下の**ア**~**エ**から1つ選びなさい。(長崎)

- a** 東京からケープタウンまでの距離は、東京からブラジルまでの距離より長い。
b プエノスアイレスは、東京からほぼ東の方位に位置する。

- ア** a—正 b—正 **イ** a—正 b—誤
ウ a—誤 b—正 **エ** a—誤 b—誤

② **Z**の大陸を何といいますか。



※東京を中心として、半径5000kmごとに円を記している。

③ **記述** 地図Ⅱの短所を、簡単に書きなさい。

① ① A	B	②	③
④	⑤	(2) ①	② 大陸
③			

入試 にトライ

●時間 **15** 分

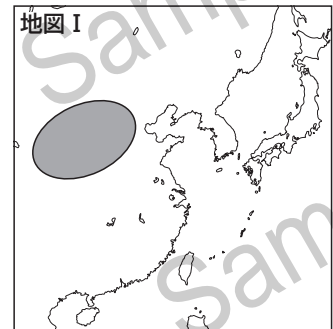
古代文明と日本① (文明のおこり)

名前	組	番
/7問		

◆ 次の問いに答えなさい。

(1) 紀元前1600～1500年ごろから、**地図Ⅰ**の で栄えた文明について説明した文を、次のア～エから1つ選びなさい。(山梨改)

- ア 計画的に建設された市街には、下水道などの公共施設が整備されていた。
- イ 黄河流域に青銅器文化をもつ国がおこり、政治や祭りにはうらないが用いられた。
- ウ イスラム教にもとづいて国がつくられ、その教えは北アフリカまで広まった。
- エ 種まきや刈り取りの時期を予知するために、太陽暦がつけられた。




(2) **地図Ⅱ**は現在の陸地を で、また、ある時期に陸地だった部分を でそれぞれ示したものです。陸地が で示した形をしていた時期に日本列島に移り住んできた人々の、当時のようすについて説明した文を、次のア～エから1つ選びなさい。

- ア 人々は、水田の近くにむらをつくって住み、協力して稲作をおこなった。
- イ 人々は、表面をみがいた磨製石器を使うようになり、農耕や牧畜を始めていた。
- ウ 人々は、表面に縄目の文様をつけた土器をつくり、食べ物の保存などに使った。
- エ 人々は、打製石器をつけたやりをつくり、ナウマン象などの大型の動物をとらえた。



(3) **資料Ⅰ**は、青森県の三内丸山遺跡です。これを見て、次の問いに答えなさい。


- ① 三内丸山遺跡に代表される時代を、次のア～エから1つ選びなさい。(香川)
- ア 旧石器時代 イ 縄文時代
 - ウ 弥生時代 エ 古墳時代
- ② 三内丸山遺跡と同じころ、海岸などには食べ物の残りかすなどを捨てた がありました。 にあてはまる語句を書きなさい。
- ③ 三内丸山遺跡では、魔よけや家族の繁栄を祈ってつくられた土製品が発見されました。これを何といいますか。



(4) **資料Ⅱ**は、稲作において収穫した稲の穂をたくわえるための建物を復元したものです。この建物を何といいますか。次のア～エから1つ選びなさい。(奈良)

- ア 物見やぐら イ 高床倉庫 ウ たて穴住居 エ 水城

資料Ⅱ



吉野ヶ里遺跡に復元された建物

(5) **記述** **資料Ⅱ**の建物には、稲の穂をたくわえるためにどことなくふうが見られますか。**資料Ⅱ**を参考にして、簡単に書きなさい。(熊本改)

(1)	(2)	(3)①	②
③	(4)	(5)	

入試 にトライ

●時間 **15** 分

活用力問題 (政治編)

名前	組	番
/ 4 問		

◆ 次の各問いに答えなさい。

(1) 次の資料Ⅰ～Ⅲは、井上さんが、政党と政治について学習するために使ったものです。これに関する、次の問いに答えなさい。(山梨)

① 資料Ⅰ中の **a**、**b** にあてはまる漢字1字を、それぞれ書きなさい。

資料Ⅰ

政党政治では、2つの政党が競い合う二党制や3つ以上の政党が存在する **a** 党制が見られる。また、政権をになう政党を与党、それ以外の政党を **b** 党という。

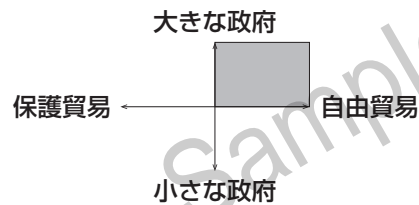
② 資料Ⅲ中の の部分にあてはまる主張をしている政党は、資料Ⅱ中のA党～D党のどれですか。A～Dから1つ選びなさい。

資料Ⅱ 各政党の主張

政党	A党	B党	C党	D党
関税	↓ 引下げ	↓ 引下げ	↑ 引上げ	↑ 引上げ
国の社会保障負担	↓ 削減	↑ 増加	↑ 増加	↓ 削減

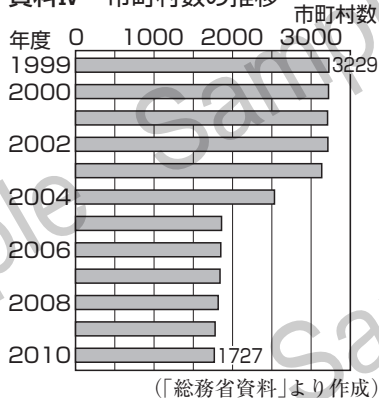
(注) A党～D党は架空の政党である。

資料Ⅲ 各政党が主張する政府の仕事や貿易に関する考え方

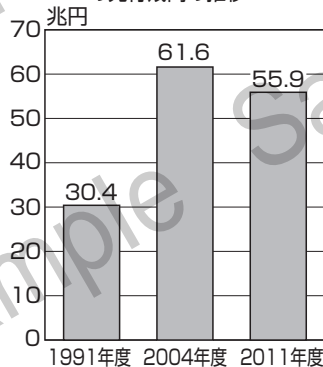


② **記述** 美咲さんは、地方自治に関して調べていく中で、資料Ⅳを見つけ、市町村合併によって特に2004年度ごろに市町村の数が減っていることがわかりました。このころに市町村合併が進んだ理由として財政面から考えられることを、資料Ⅴ、Ⅵを関連づけて書きなさい。(宮崎)

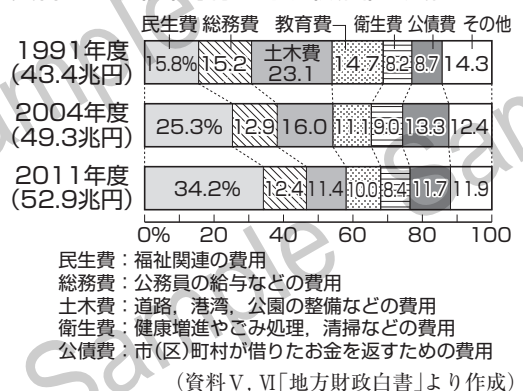
資料Ⅳ 市町村数の推移



資料Ⅴ 市(区)町村における地方債の発行残高の推移



資料Ⅵ 市(区)町村の財政(歳出)の変化



(1) ① a	b	②	党
(2)			