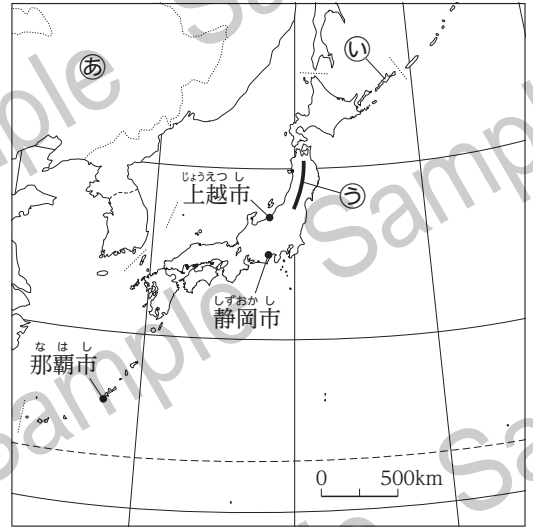


はじめに解答用紙の名前のらんに、組、番、名前などを書き、解答はすべて解答らんに書き入れましょう。

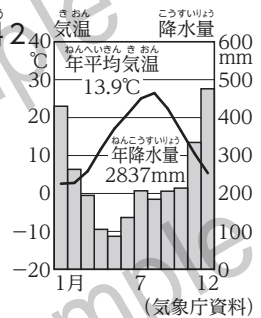
1 次の各問いに答えなさい。

- (1) 日本は、資料1の㉔の大陸の東に位置しています。㉔の大陸の名称を書きなさい。
- (2) 日本の北のはしにある資料1の㉕の島を、次のア～エから1つ選んで、記号で書きなさい。
ア 竹島 イ 南鳥島 ウ 沖ノ鳥島 エ 択捉島
- (3) 日本でもっとも長い、資料1の㉖の山脈の名称を書きなさい。
- (4) 資料2は、資料1のいずれかの都市の気温と降水量を示しています。資料2を正しく読み取っているものを、次のア～ウから1つ選んで、記号で書きなさい。
ア 1年の降水量が多いため、静岡市があてはまる。
イ 冬に降水量が多いため、上越市があてはまる。
ウ 夏の気温が高いため、那覇市があてはまる。
- (5) 日本で見られる、6月中ごろから7月ごろにかけて雨が多くふる時期を何とといいますか。

資料1



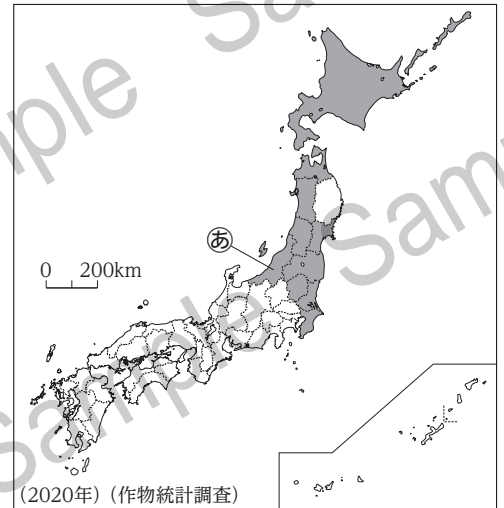
資料2



2 次の各問いに答えなさい。

- (1) 資料1は、ある農産物の生産量が多い都道府県を示しています。これを見て、次の各問いに答えなさい。
 - ① あてはまる農産物を、次から1つ選びなさい。
〔 野菜 果物 米 肉牛 〕
 - ② ①の農産物の生産が盛んな、資料1の㉗の都道府県の名稱を書きなさい。
- (2) 日本では水産資源を守るため、育てる漁業を進めています。このうち、稚魚をいけすで育てる漁業を何とといいますか。
- (3) 日本はさまざまな国と貿易をしています。これについて、資料2の2つのグラフは、日本の主な輸出品と輸出品のいずれかの内わけを示しています。このうち、輸出品を示すものを、ア・イから1つ選んで、記号で書きなさい。
- (4) 日本の工業のさかんな地域は、海沿いに発展してきました。この理由を、「原材料」「便利」の2つの語句を使って、簡単に書きなさい。

資料1



資料2

輸出品	輸出品の内わけ	輸出品の内わけ
計 68.4兆円	鉄鋼	コンピューター部品 1
ア	機械類 44%	自動車 14
		その他 33
計 67.8兆円	カメラなど 3	せんい品 1
イ	機械類 31%	食料品 10
	原油など燃料	化学製品
		原料品

(2020年) (貿易統計)